

Pobrežie Ázie - slepá mapa

- Materiál obsahuje **pracovný list** pre prácu na vyučovacej hodine, ktorý potom slúži ako učebný materiál pre žiakov.
 - V pracovnom liste žiaci podľa atlasu dopĺňajú do mapy vybrané geografické prvky.
- Ďalej materiál obsahuje **písomnú prácu** v troch verziách A,B,C (ja osobne skupinu C používam pre chýbajúcich žiakov, ktorí dopisujú neskôr).
- Materiál prosím nerozširovať, nekopírovať a nezdieľať na sociálnych sieťach.

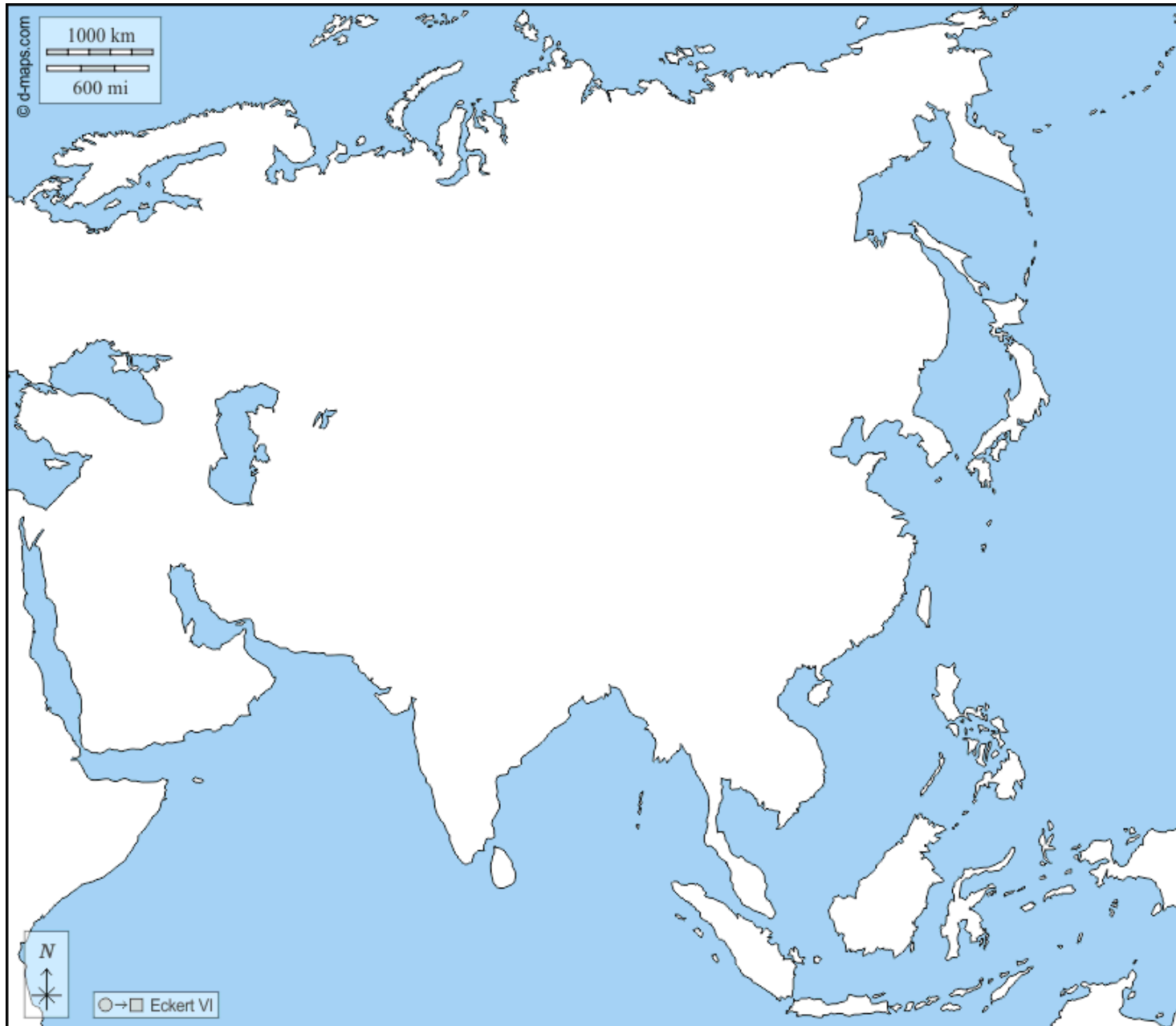
Mgr. Viktória Čviriková



Zdroj obrázkov: www.d-maps.com



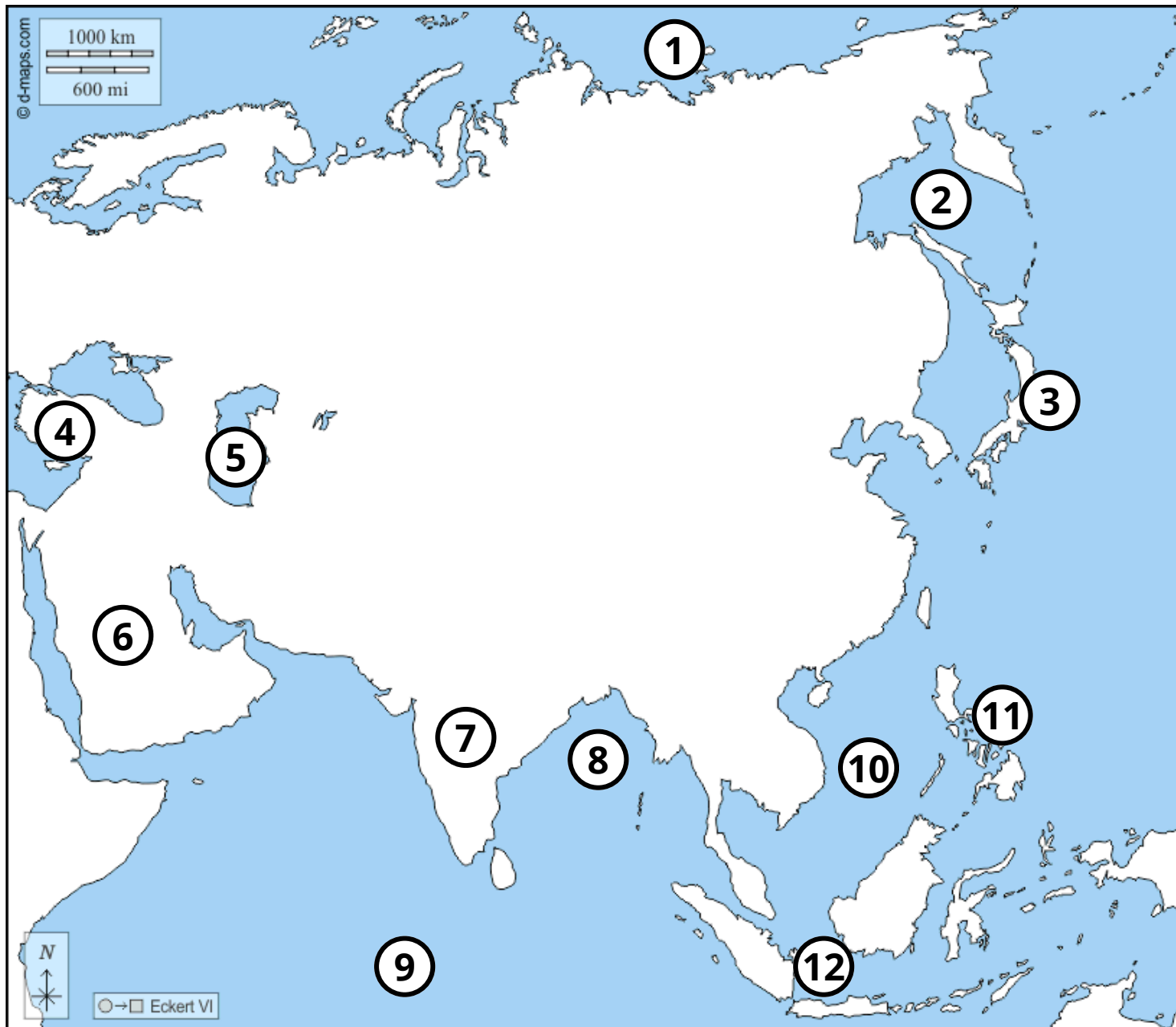
Pobrežie Ázie - slepá mapa



Na mape vyznač:

1. Tichý oceán
2. Indický oceán
3. Severný ľadový oceán
4. Japonské more
5. Žlté more
6. Bengálsky záliv
7. Arabské more
8. Perzský záliv
9. Kaspické more
10. Červené more
11. Suezský prielav
12. Kamčatka
13. Japonské ostrovy
14. Kórejský polostrov
15. Arabský polostrov
16. Predná India
17. Zadná India
18. Cejlón
19. Filipíny
20. Veľké Sundy
21. Malá Ázia
22. Juhočínske more
23. Ochotské more

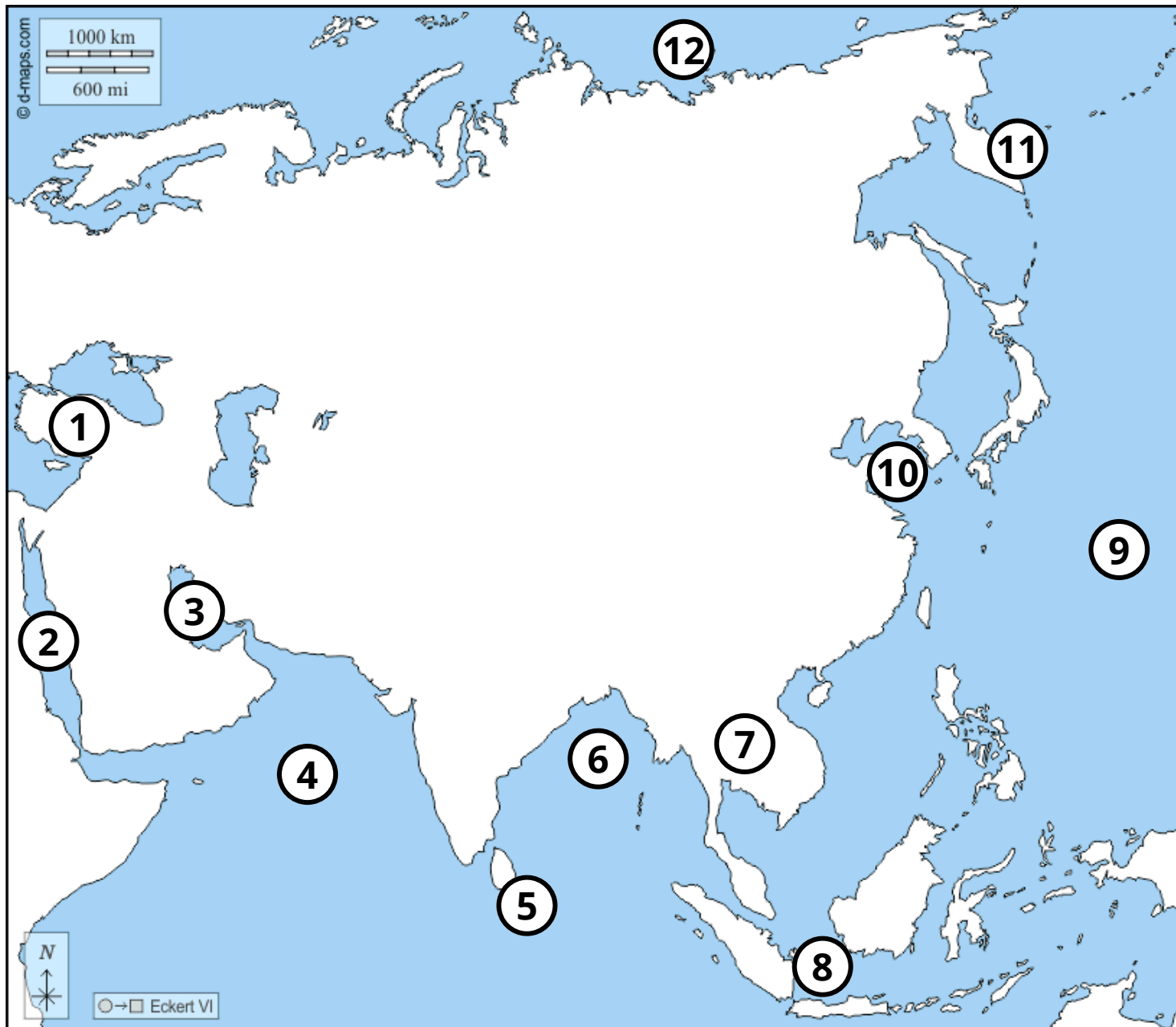
Pobrežie Ázie - slepá mapa - skupina A



Správne pomenuj:

1. oceán
2. more
3. ostrovy
4. polostrov
5. more
6. polostrov
7. polostrov
8. záliv
9. oceán
10. more
11. súostrovie
12. súostrovie

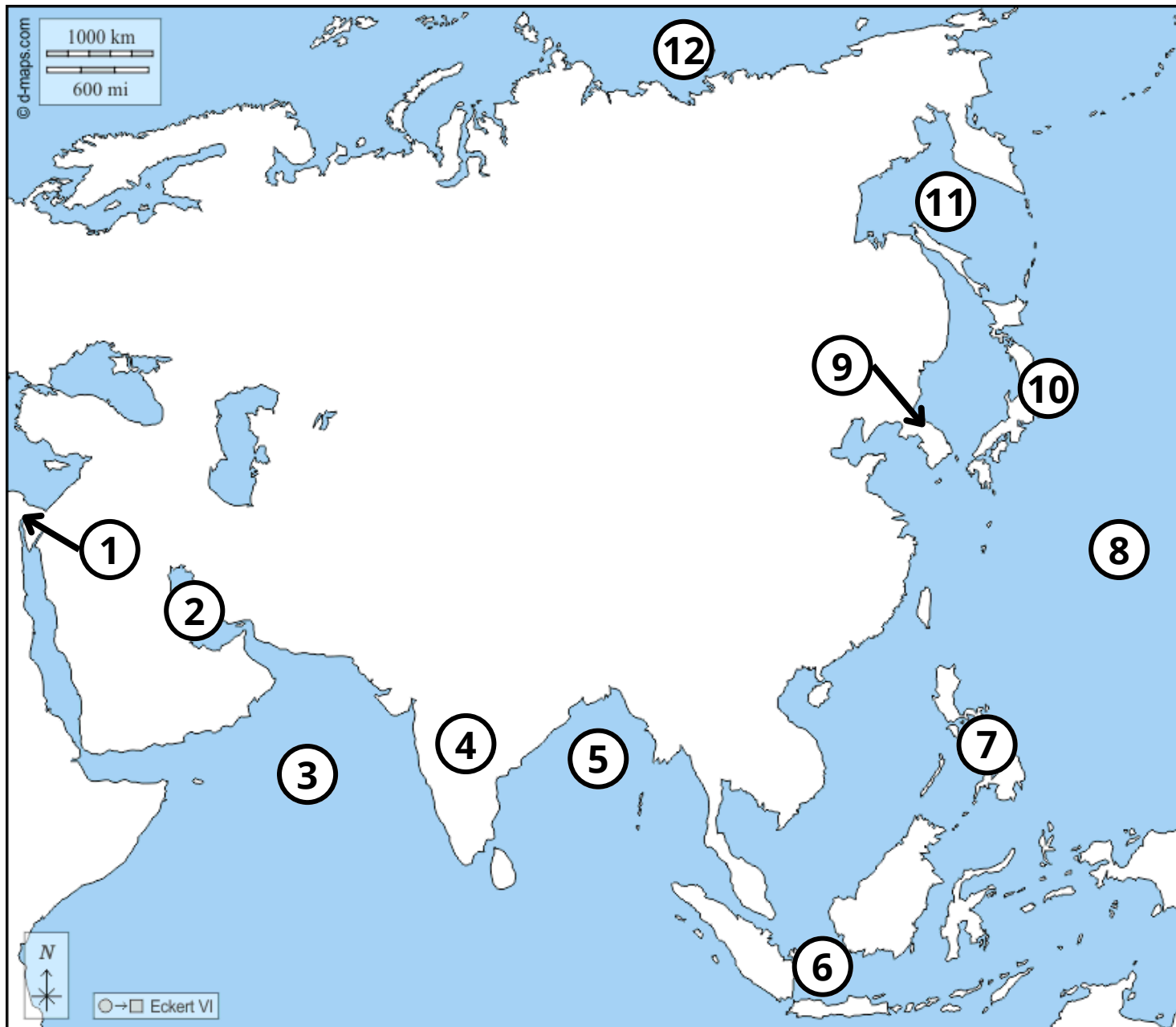
Pobrežie Ázie - slepá mapa - skupina B



Správne pomenuj:

1. polostrov
2. more
3. záliv
4. more
5. ostrov
6. záliv
7. polostrov
8. súostrovie
9. oceán
10. more
11. polostrov
12. oceán

Pobrežie Ázie - slepá mapa - skupina C



Správne pomenuj:

1. prielav
2. záliv
3. more
4. polostrov
5. záliv
6. súostrovie
7. súostrovie
8. oceán
9. polostrov
10. súotrovie
11. more
12. oceán

Správne odpovede

Skupina A:

1. Severný ľadový oceán
2. Ochotské more
3. Japonské ostrovy
4. Malá Ázia
5. Kaspické more
6. Arabský polostrov
7. Predná India
8. bengálsky záliv
9. Indický oceán
10. Juhočínske more
11. Filipíny
12. Veľké Sundy

Skupina B:

1. Malá Ázia
2. Červené more
3. Perzský záliv
4. Arabské more
5. Cejlón
6. Bengálsky záliv
7. Zadná India
8. Veľké Sundy
9. Tichý oceán
10. Žlté more
11. Kamčatka
12. Severný ľadový oceán

Skupina C:

1. Suezský prielav
2. Perzský záliv
3. Arabské more
4. Predná India
5. Bengálsky záliv
6. Veľké Sundy
7. Filipíny
8. Tichý oceán
9. Kórejský polostrov
10. Japonské ostrovy
11. Ochotské more
12. Severný ľadový oceán